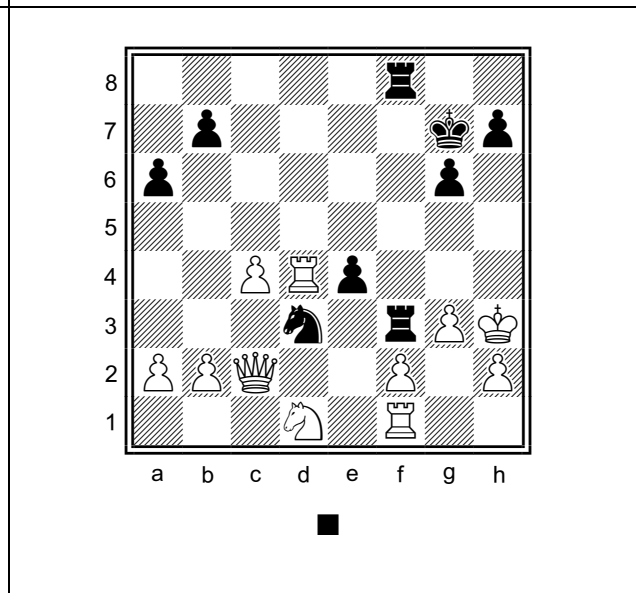
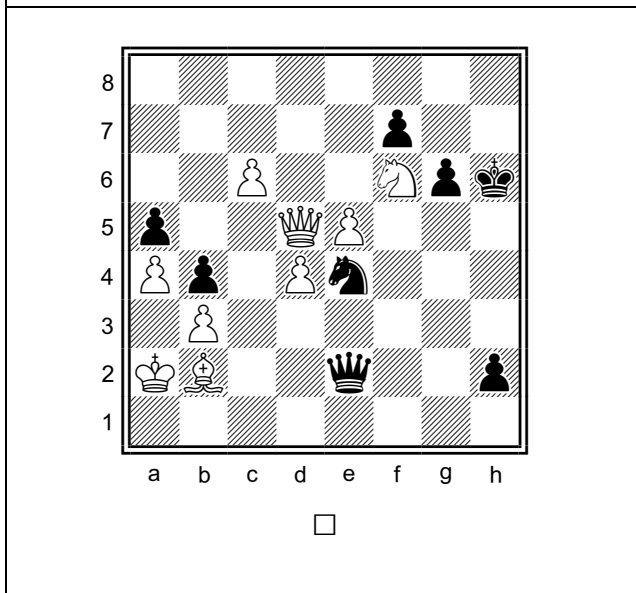
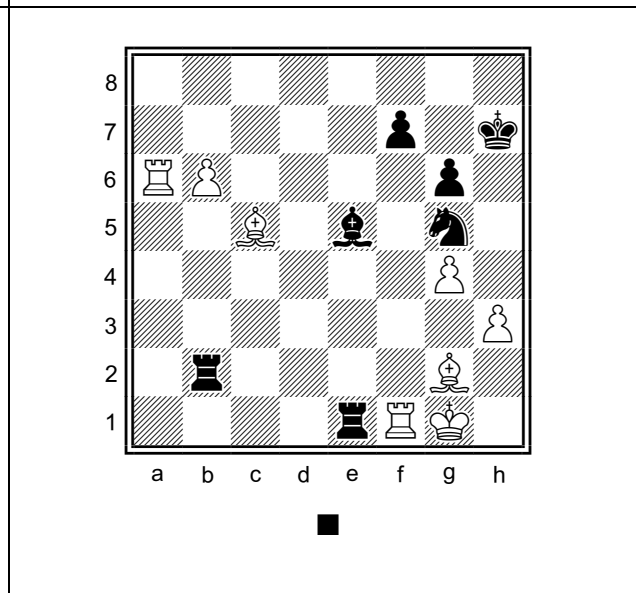
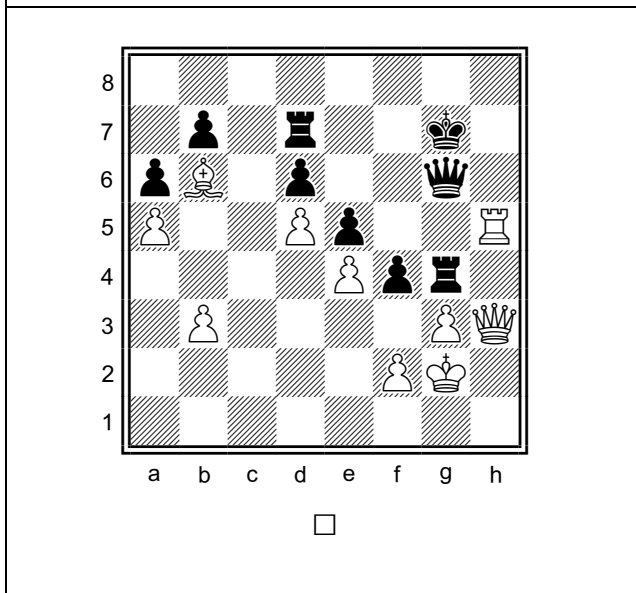
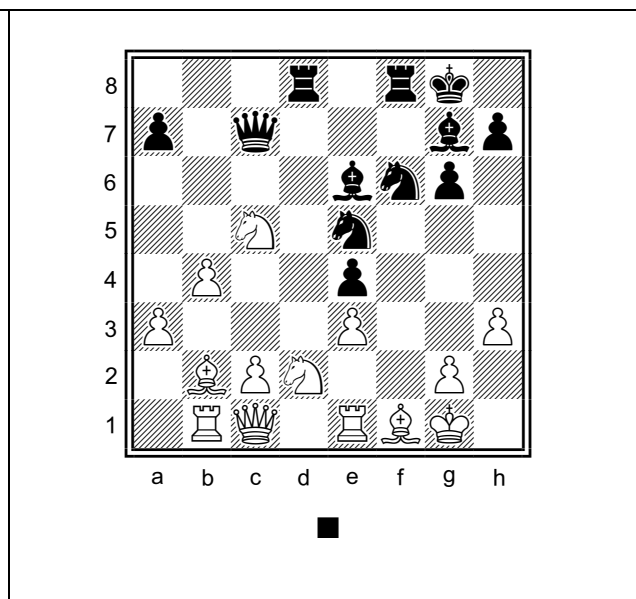
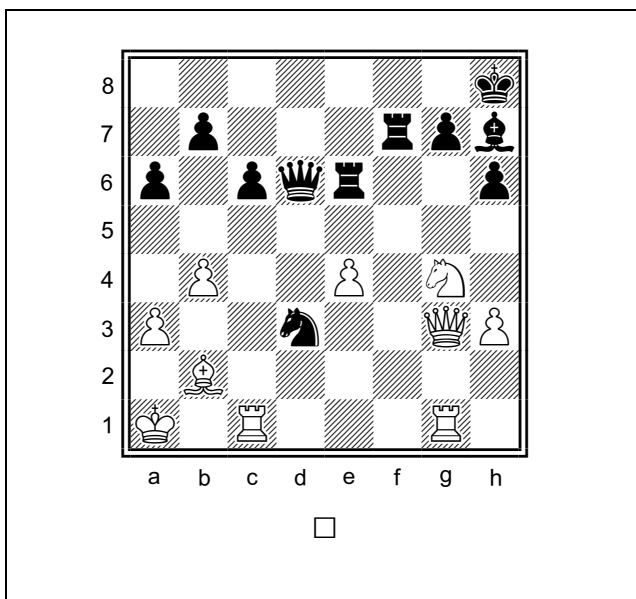



# Ферзь



## Ферзь

<p>Белые: ♔f4, ♕d7, g2,          Чёрные: ♔h4, ♖b1, ♞b5          Ход белых:          Найдите лучший ход:          1.</p>	<p>Белые: ♔f2, ♕f4,          Чёрные: ♔h3, ♖f6, ♞g5, g2          Ход белых:          Найдите лучший ход:          1.</p>
<p style="text-align: center;">Начальная позиция:</p> <ol style="list-style-type: none"> <li>1. d4 ♞f6</li> <li>2. f3 d5</li> <li>3. e4 de</li> <li>4. ♞c3 ♕f5</li> <li>5. ♕e2 ♕d4</li> <li>6. ♕b5 ♖d7</li> <li>7. ♕b7 ♖c6</li> </ol> <p style="text-align: center;">Продолжите вариант.          Тактика. Ход белых:          8.</p>	<p>Белые: ♞h1, e5          Чёрные: ♕c7, ♖c4, f5          За какое наименьшее количество ходов ♞h1 съест чёрного (♠♕) ферзя (чёрные фигуры не двигаются и под удар коня ставить нельзя)          Ответ (число):</p>
<p>Белые: ♕d6,          Чёрные: ♔a6, ♖h4, a7          Напишите поля, на которые нужно поставить Белого короля (♔) и Белого слона (♗), чтобы на доске был мат (победа белых).</p> <p>Ответ:          Король:          Слон:</p>	<p>Белые: ♔f7, ♕d4, ♖e7, ♖e6          Чёрные: c3          Добавьте чёрного короля (♠♔) и чёрного ферзя (♠♕) так, чтобы на доске был мат. (победа белых).          Ответ:          Король:          Ферзь:</p>

# Ферзь




1.

2.

3.

4.




5.

6.

7.

8.



9.

10.

11.

12.

Итоговая позиция.

